



✓ Je sais résoudre des problèmes avec des prix.




Qui a le plus de billets ?

Qui a le plus d'argent ?

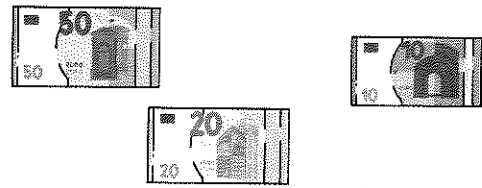
Ce n'est pas l'enfant qui a le plus de billets qui a le plus d'argent.

Ce qui compte, c'est la valeur des billets.


1 Calcule la somme dépensée par chaque personne.
Entoure le nom de la personne qui a dépensé le plus d'argent.



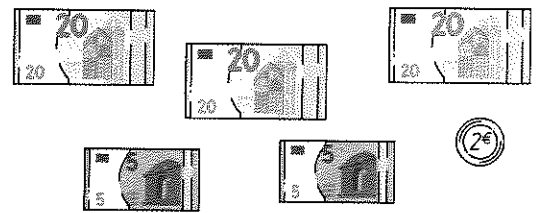
Madame Lima



Madame Simon

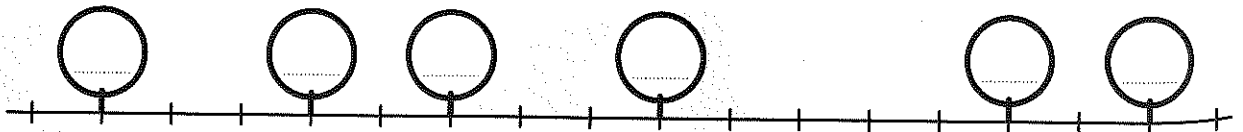


Monsieur Lambert



Monsieur Casa

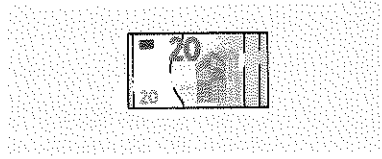

Écris les nombres dans les ronds.





Résous les problèmes illustrés. Pour chaque problème, dessine dans la 3^e case les pièces ou les billets rendus.

2

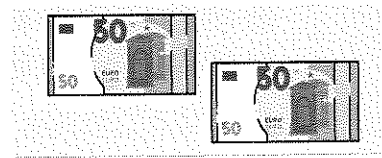

Tom achète un ballon. Il paie avec un billet. Combien va-t-on lui rendre?



Alice achète une trottinette. Elle paie avec deux billets. Combien va-t-on lui rendre?



Fatou achète une montre. Elle paie avec deux billets. Combien va-t-on lui rendre?



3 Résous le problème dans ton cahier.

Madame Lima a 96€ dans son portemonnaie. Elle paie 37€ à la caisse du supermarché.

Combien d'argent reste-t-il à Madame Lima?

4 Résous le problème dans ton cahier.

Monsieur Simon avait 983€ sur son compte en banque. Il achète une tablette à 237€ et une imprimante à 122€.

Combien d'argent reste-il sur son compte en banque?

5 Résous le problème dans ton cahier.

Monsieur Casa achète 8 pinceaux à 5€ l'un et 2 pots de peinture à 25€ le pot.

Combien Monsieur Casa doit-il payer?

6 Résous le problème dans ton cahier.

Monsieur Lambert veut acheter un ordinateur à 685€ et une imprimante à 247€.

Combien Monsieur Lambert doit-il payer?

Reproduis les carrés avec ta règle.

