
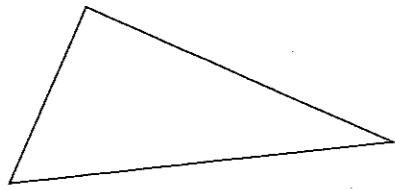


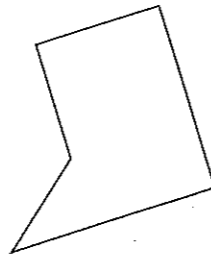
1 Marque les angles droits du petit symbole **L** et note le nombre d'angles droits sous chaque figure.



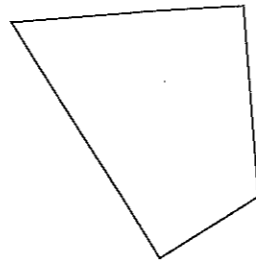
..... angles droits



..... angle droit



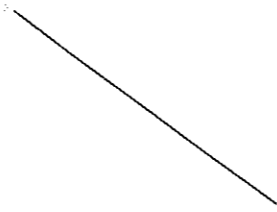



..... angles droits



..... angles droits

2 Trace un angle droit avec ton équerre à partir de chaque trait.

Place bien ton équerre sur le trait.

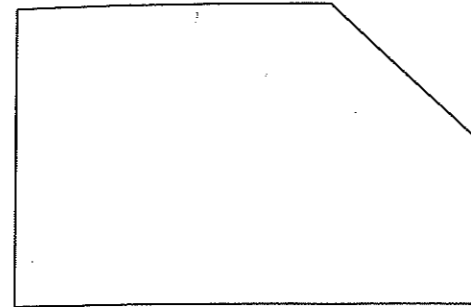


3 Trace un polygone qui a un angle droit et 4 côtés.




1 Colorie le polygone et son étiquette de la même couleur.

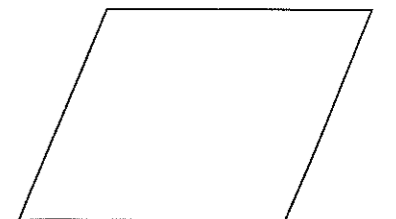
Je n'ai pas d'angle droit. J'ai 4 côtés.



J'ai 4 angles droits et 4 côtés.




J'ai 3 angles droits et 5 côtés.



2 Trace un polygone à 1 angle droit et 5 côtés.

Trace ton angle droit en premier !



3 Trace un polygone à 2 angles droits et 5 côtés.

